

IC "General Giardino" MUSSOLENTE

ELABORAZIONE DEI DATI SULL'INDAGINE SULLE MODALITA' DI SPOSTAMENTO CASA-SCUOLA

Con il contributo degli alunni delle classi 3A e 3B del laboratorio *stream*

POPOLAZIONE A CUI È RIVOLTA L'INDAGINE:

- Alunni Scuola Secondaria - a.s. 2022-23 (290 alunni)

RISPOSTE OTTENUTE:

- 215

DURATA DEL SONDAGGIO:

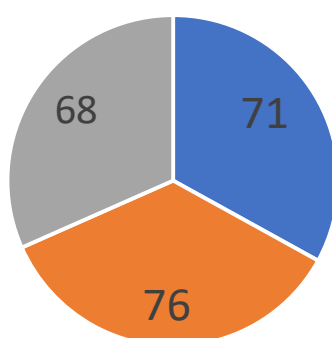
- 15-21/11/2022

DOCENTI REFERENTI:

- proff. Campesato Leonardo, Bonato Patrizia



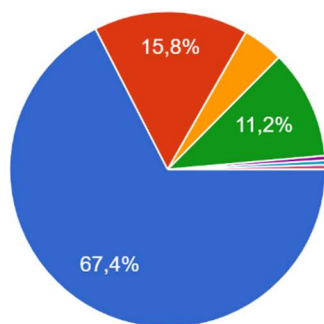
CLASSE DI APPARTENENZA (215 risposte)



■ CLASSE PRIMA ■ CLASSE SECONDA ■ CLASSE TERZA

Quale mezzo di trasporto utilizzi prevalentemente per venire a scuola?

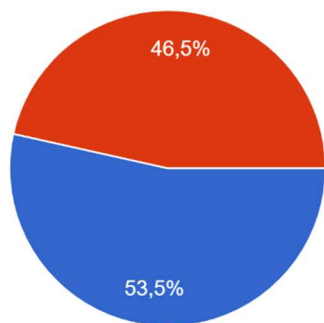
215 risposte



- Auto
- Autobus
- Bicicletta
- A piedi
- Per andare auto per tornare vado a piedi
- In parte a piedi in parte in auto
- fino a un certo punto vengo in macchina poi mi avvio verso scuola a piedi

Risiedi nel territorio di Mussolente?

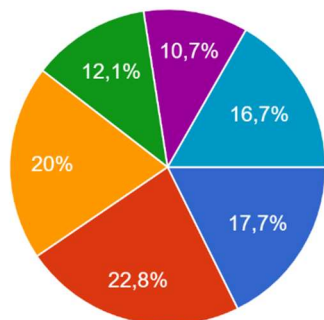
215 risposte



- SI
- NO

Quanto dista la tua casa dalla scuola? Aiutati con Google maps (la scuola è in via San Pio X, 2)

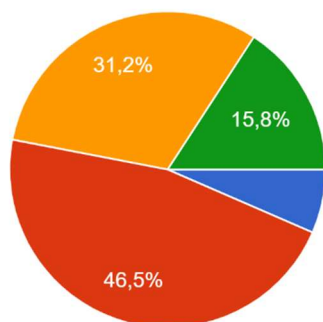
215 risposte



- Meno di un km
- Tra 1 e 2 km
- Tra 2 e 3 km
- Tra 3 e 4 km
- Tra 4 e 5 km
- Più di 5 km

Quanto tempo impieghi per raggiungere la scuola?

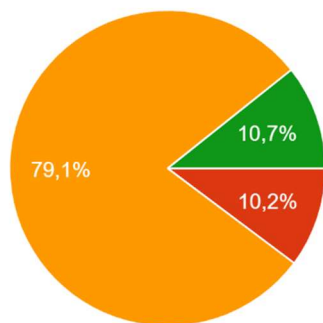
215 risposte



- Meno di 2 minuti
- Tra i 2 e i 5 minuti
- Tra i 6 e i 10 minuti
- Più di 10 minuti

Quante auto possiede la tua famiglia?

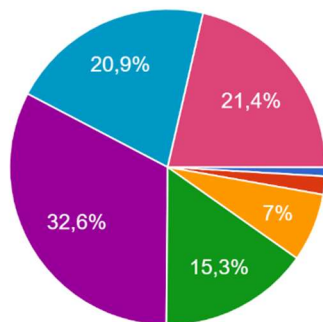
215 risposte



- 0
- 1
- 2
- Più di 2

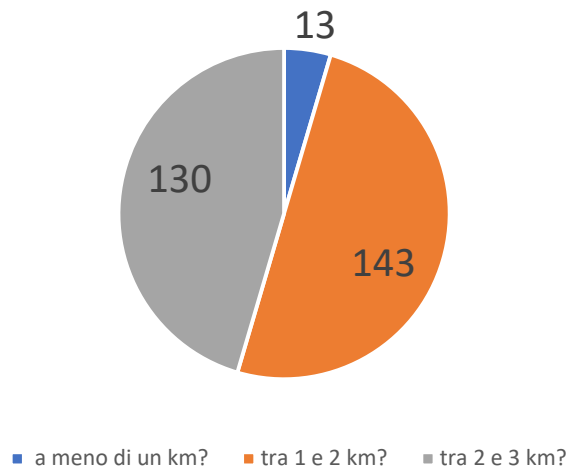
Quante biciclette possiede la tua famiglia?

215 risposte

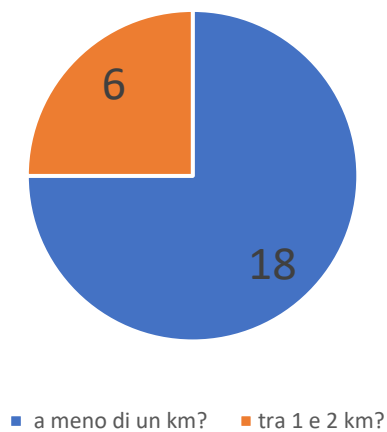


- 0
- 1
- 2
- 3
- 4
- 5
- Più di 5

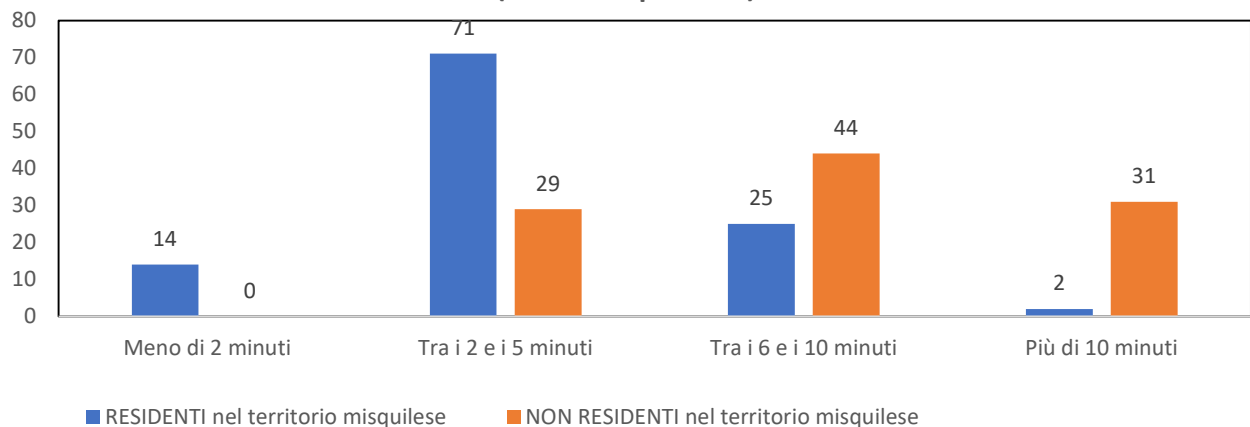
Tra gli alunni che vengono a scuola IN AUTO, quanti abitano...



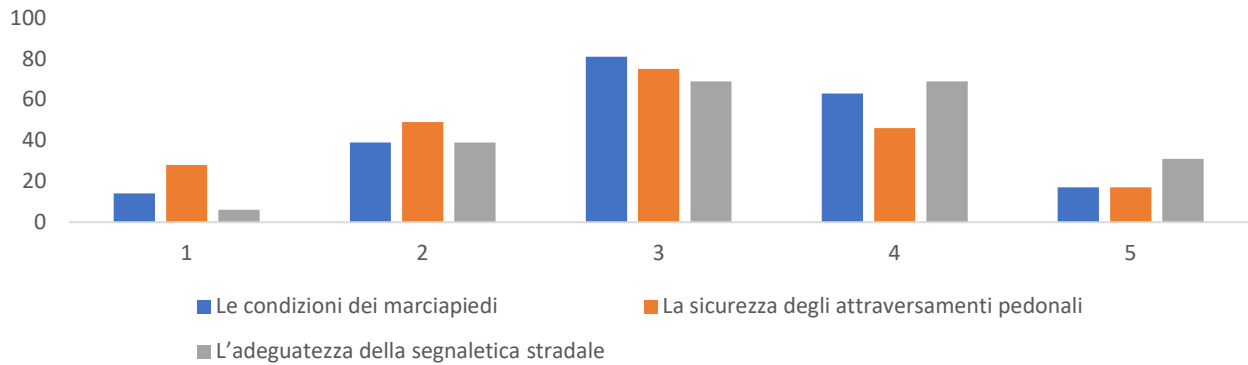
Tra gli alunni che vengono a scuola A PIEDI, quanti abitano...



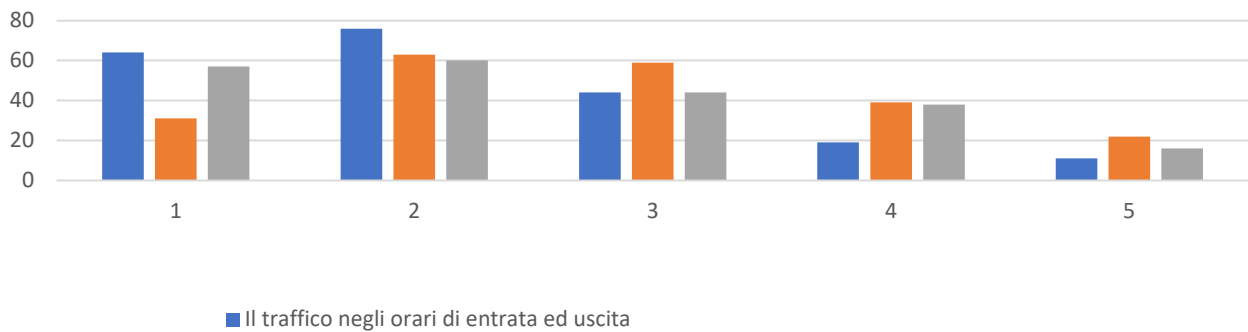
Quanto tempo impieghi per raggiungere la scuola
(215 risposte)?



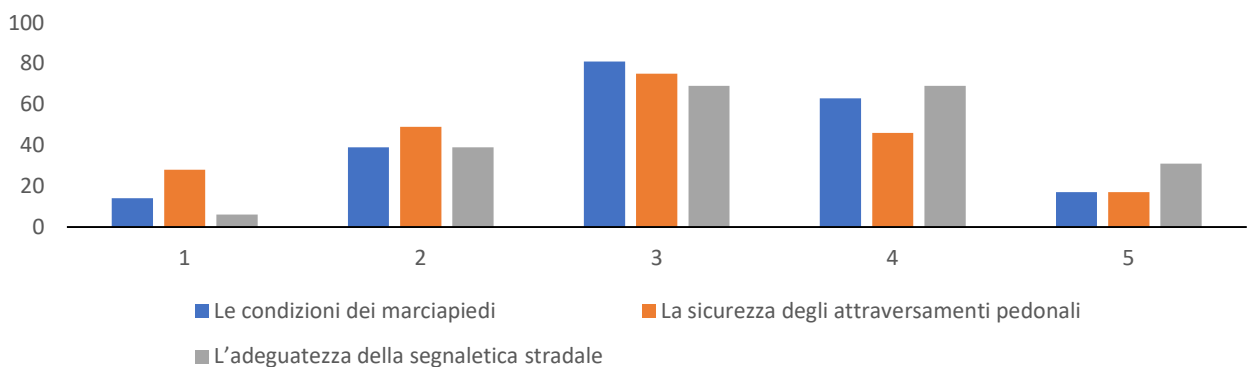
Pensando al tragitto che devi percorrere per andare a scuola e all'area che circonda la scuola, esprimi un voto da 1 a 5 (1=pessimo, 5=ottimo) sui seguenti aspetti



Pensando al tragitto che devi percorrere per andare a scuola e all'area che circonda la scuola, esprimi un voto da 1 a 5 (1=pessimo, 5=ottimo) sui seguenti aspetti



Pensando al tragitto che devi percorrere per andare a scuola e all'area che circonda la scuola, esprimi un voto da 1 a 5 (1=pessimo, 5=ottimo) sui seguenti aspetti



Pensando al tragitto che devi percorrere per andare a scuola e all'area che circonda la scuola, esprimi un voto da 1 a 5 (1=pessimo, 5=ottimo) sui seguenti aspetti

